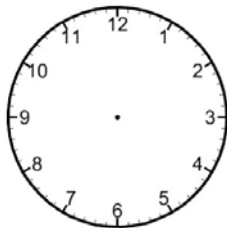


Opóźniają się :(

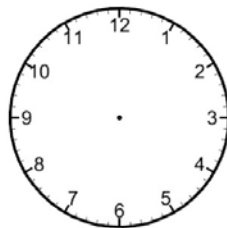
Jest godzina 20.25. Tylko jeden zegarek chodzi dobrze, wszystkie pozostałe opóźniają się. Przy każdym z nich podane jest, ile ma minut opóźnienia. Narysuj wskazówki na każdym zegarku – zgodnie z tym, jaką godzinę pokazują.



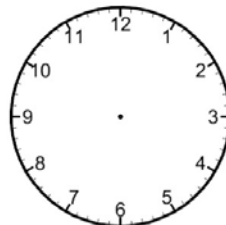
15 min



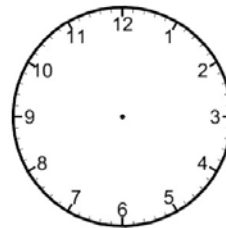
35 min



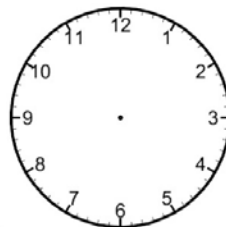
7 min



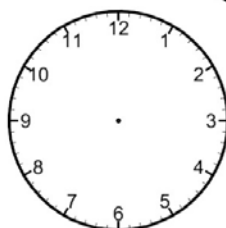
25 min



50 min



3 min



42 min

